



República de Moçambique  
Ministério da Educação  
Conselho Nacional de Exames, Certificação e Equivalências

ESG / 2014  
10ª Classe

Exame de Geografia

1ª Época  
90 Minutos

Este exame contém onze (11) perguntas. Leia-as com atenção e responda na sua folha de exame.  
Na margem direita está indicada, entre parênteses, a cotação de cada pergunta.

Cotação

1. Observe os dados da tabela seguinte.

Mês	J	F	M	A	M	J	J	A	S	O	N	D
T (°C)	25,5	24,9	24,2	22,2	21,0	18,5	18,4	20,0	21,0	21,8	22,9	24,3
P (mm)	149	131	112	66	35	33	49	37	50	97	98	101

a) Qual é o mês mais chuvoso?

(1,0)

b) Calcule a precipitação anual.

(1,0)

2. Nos países desenvolvidos, as taxas de natalidade apresentam valores muito baixos.

Copie para a sua folha de exame a opção que justifica a afirmação acima.

(2,0)

A Os filhos constituem uma fonte de riqueza para as famílias.


B A medicina está pouco evoluída e as condições de higiene ainda são precárias.

C O planeamento familiar está muito difundido.


D O analfabetismo ainda constitui um problema para a maioria da população.

3. Copie para a sua folha de exame a letra que corresponde a pirâmide etária dos países em vias de desenvolvimento.


(2,0)



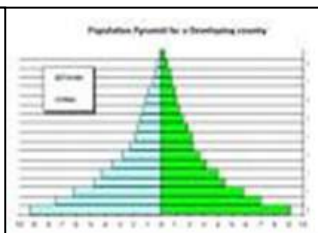
A



B



C

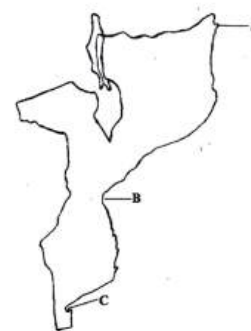


D

Vire a folha

4. O mapa ao lado representa alguns acidentes da costa de Moçambique.

Faça a legenda dos acidentes **A**, **B** e **C**.



(1,5)

5. *O relevo moçambicano é constituído por várias formações montanhosas.*

Estabeleça a relação entre as montanhas (coluna **A**) e as províncias (coluna **B**).

(1,5)

**Coluna A**

- |                                       |
|---------------------------------------|
| 1. Binga<br>2. Namúli<br>3. Mponduíne |
|---------------------------------------|

**Coluna B**

- |                                       |
|---------------------------------------|
| A. Zambézia<br>B. Maputo<br>C. Manica |
|---------------------------------------|

(2,0)

6. Das afirmações que se seguem, assinale com **V** as verdadeiras e com **F** as falsas.

- a) O clima Semi-Árido encontra-se na região de Pafúri, a Sul de Moçambique.
- b) O clima Tropical Húmido é caracterizado por uma época seca mais longa do que a chuvosa.
- c) O clima Tropical de Altitude é característico das zonas costeiras onde as temperaturas médias anuais são superiores a 26°C.
- d) O clima Tropical Seco encontra-se no interior da província de Gaza, na faixa de Chicualacuala e Massingir e apresenta escassa pluviosidade.

7. *O relevo e o clima exercem influência sobre os rios moçambicanos.*

Caracterize os rios do nosso país com dois (2) aspectos, de acordo a influência do relevo.

(2,0)

8. Qual a opção que completa correctamente a seguinte frase: *O maior produtor de côco em Moçambique é a província d(e/o/a)...*

(1,5)

- A** Manica.                      **B** Nampula.                      **C** Niassa.                      **D** Zambézia.

9. *Os anos que se seguiram à independência nacional, caracterizaram-se por uma redução constante dos efectivos pecuários.*

Refira duas (2) acções prioritárias para o relançamento da actividade pecuária na fase actual em Moçambique.

(2,0)

10. *Em Moçambique são conhecidos três corredores de transporte.*

(1,5)

Qual das opções abaixo constitui a dos corredores de transporte terrestre do nosso país?

- A** Beira, Pemba e Nacala                      **C** Maputo, Inhambane e Tete  
**B** Maputo, Beira e Nacala                      **D** Pemba, Quelimane e Xai-Xai

11. *Moçambique tem condições naturais para um amplo desenvolvimento do turismo.*

Explique com dois (2) aspectos, a importância do turismo no desenvolvimento das áreas rurais em Moçambique.

(2,0)

**2014 / 10ª Classe / Guia de Correção do Exame de Geografia / 1ª Época**

---

<b>Perg.</b>	<b>Respostas</b>	<b>Cotação</b>	
		<b>Parc.</b>	<b>Total</b>
1.	a) O mês mais chuvoso é o de Janeiro.	1,0	
	b) PA= 149+131+112+66+35+33+49+37+50+97+98+101 <b>(0,5)</b> PA = 958 mm <b>(0,5)</b>	1,0	<b><u>2,0</u></b>
2.	C O planeamento familiar está muito difundido.	2,0	<b><u>2,0</u></b>
3.	D	2,0	<b><u>2,0</u></b>
4.	A – Cabo Delgado B - Baía de Sofala C – Baía do Maputo	3x0,5	<b><u>1,5</u></b>
5.	1 – C            2 – A            3 – B	3x0,5	<b><u>1,5</u></b>
6.	a) V            b) F            c) F            d) V	4x0,5	<b><u>2,0</u></b>
7.	- Correm de Oeste para Este; - São pouco navegáveis; - Os rios do Centro e Norte correm em vales profundos em forma de “V”; - Os rios do Sul atravessam vales largos e pouco profundos; - Apresentam quedas de água ao longo do seu percurso.  <b>Obs.:</b> Considerar apenas 2 aspectos destes.	2x1,0	<b><u>2,0</u></b>

8. **D** Zambézia. 1,5 **1,5**
9. - Garantir a assistência técnico-sanitária;  
- Introduzir gradualmente novas tecnologias apropriadas;  
- Adquirir animais reprodutores;  
- Criar sistemas de comercialização no mercado nacional de subprodutos industriais. 2,0 **2,0**
- Obs.:** Considerar apenas 2 aspectos destes.
10. **B** Maputo, Beira e Nacala 1,5 **1,5**
11. - Fonte de obtenção de receitas (dinheiro);  
- Cria emprego;  
- Surgem infraestruturas sociais (escolas, hospitais, etc);  
- Permite o desenvolvimento de outros sectores de actividade. 2x1,0 **2,0**
- Obs.:** Considerar apenas 2 aspectos destes.