



FACULTAD DE FÍSICA  
PONTIFICIA UNIVERSIDAD  
CATÓLICA DE CHILE

# Dinámica (FIS1514)

## Movimiento Rectilíneo

---

**Felipe Isaule**

felipe.isaule@uc.cl

Lunes 12 de Agosto de 2024

# Resumen clase anterior

- Comenzamos la unidad de **Cinemática**.
- Definimos la **posición, velocidad, y aceleración**.
- Introducimos la cinemática en **una dimensión**.

$$v = \frac{ds}{dt} = \dot{s}$$

$$a = \frac{dv}{dt} = \dot{v}, \quad a = \frac{d^2s}{dt^2} = \ddot{s}$$

$$a ds = v dv, \quad \ddot{s} ds = \dot{s} d\dot{s}$$

# Clase 3: Cinemática 1D

- Movimiento uniformemente acelerado
- Integración

- Bibliografía recomendada:
  - Meriam (2.2).
  - Hibbeler (12.2, 12.3).

# Clase 3: Cinemática 1D

- **Movimiento uniformemente acelerado**
- Integración

# Movimiento uniformemente acelerado

- Si la **aceleración es constante**,  $a(t)=a_0$ , y escogemos que a tiempo cero ( $t=0$ ), la posición y velocidad están dadas por

$$s(t = 0) = s_0 \quad v(t = 0) = v_0$$

- Obtenemos las ecuaciones:

$$dv = a_0 dt \quad \longrightarrow \quad v = v_0 + a_0 t$$

$$v dv = a_0 ds \quad \longrightarrow \quad \frac{v^2}{2} = \frac{v_0^2}{2} + a_0(s - s_0)$$

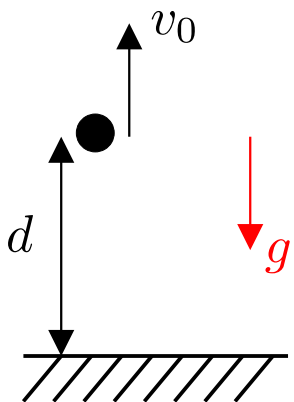
$$ds = v dt \quad \longrightarrow \quad s = s_0 + v_0 t + \frac{1}{2}a_0 t^2$$

- × Recordar que estas ecuaciones son válidas sólo para problemas con aceleración constante en el tiempo.

# Ejemplo 1

Una pelota es lanzada **verticalmente hacia arriba** con una **rapidez inicial**  $v_0$  desde una **altura inicial**  $d$  con respecto a la superficie. Considerando que debido a la **gravedad** la pelota posee una **aceleración constante**  $g$  en dirección a la superficie, encuentre:

- La **altura máxima** que alcanza la pelota.
- El **tiempo** que le toma a la pelota en alcanzar la **altura máxima**, y el tiempo que luego le toma en **tocar la superficie**.



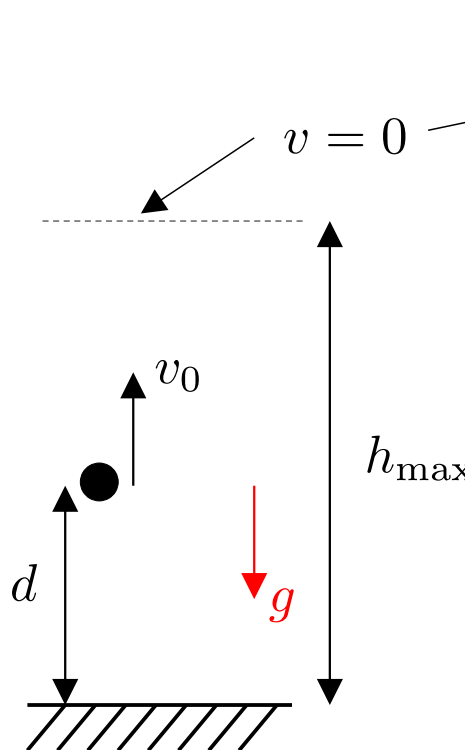
# Ejemplo 1

Una pelota es lanzada **verticalmente hacia arriba** con una **rapidez inicial**  $v_0$  desde una **altura inicial**  $d$  con respecto a la superficie. Considerando que debido a la **gravedad** la pelota posee una **aceleración constante**  $g$  en dirección a la superficie, encuentre:

- La **altura máxima** que alcanza la pelota.

La altura máxima se alcanza cuando  $v=0$ .

Dado que la aceleración es constante:


$$\frac{v^2}{2} = \frac{v_0^2}{2} + a_0(s - s_0)$$

$-g$        $h_{\max}$        $d$

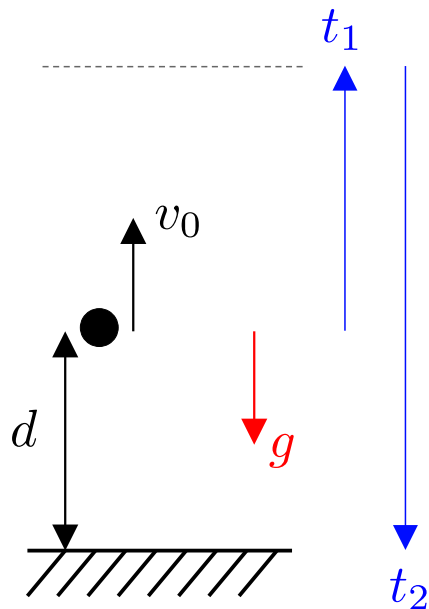
$\rightarrow$        $h_{\max} = \frac{v_0^2}{2g} + d$

# Ejemplo 1

Una pelota es lanzada **verticalmente hacia arriba** con una **rapidez inicial**  $v_0$  desde una **altura inicial**  $d$  con respecto a la superficie. Considerando que debido a la **gravedad** la pelota posee una **aceleración constante**  $g$  en dirección a la superficie, encuentre:

- El **tiempo** que le toma a la pelota en alcanzar la **altura máxima**, y el tiempo que luego le toma en **tocar la superficie**.

Debemos calcular el tiempo para subir ( $t_1$ ) y bajar ( $t_2$ ).



Para el primer trayecto:

$$0 = v_0 + a_0 t_1 \quad \longrightarrow \quad t_1 = v_0/g$$

$-g$  ↗

Para el segundo trayecto:

$$0 = s_0 + v_0 t_2 + \frac{1}{2} a_0 t_2^2 \quad \longrightarrow \quad t_2^2 = 2h_{\max}/g$$

$h_{\max}$  ↗       $-g$  ↗

$$t_2 = \sqrt{\frac{v_0^2}{g^2} + \frac{2d}{g}}$$



# Clase 3: Cinemática 1D

- Movimiento uniformemente acelerado
- **Integración**

# 1. Integrar $a(t)$

- Si tenemos una expresión para la **aceleración como función del tiempo**  $a(t)$ , la velocidad y posición se obtienen de

$$a = \frac{dv}{dt} \quad \longrightarrow \quad v(t) = v_0 + \int_0^t a(t') dt' \quad v(t=0) = v_0$$

$$v = \frac{ds}{dt} \quad \longrightarrow \quad s(t) = s_0 + \int_0^t v(t') dt' \quad s(t=0) = s_0$$

- Para **aceleración constante**  $a(t)=a_0$ :

$$\longrightarrow \quad v = v_0 + a_0 t$$

$$\longrightarrow \quad s = s_0 + v_0 t + \frac{1}{2} a_0 t^2$$

## 2. Integrar $a(s)$

- Si tenemos una expresión para la **aceleración como función de la posición**  $a(s)$ , la velocidad  $v(s)$  se obtiene de

$$a ds = v dv, \quad \longrightarrow \quad \frac{v^2}{2} = \frac{v_0^2}{2} + \int_{s_0}^s a(s') ds' \quad \longrightarrow \quad v(s)$$

- Para **aceleración constante**  $a(s) = a_0$  :

$$\longrightarrow \quad \boxed{\frac{v^2}{2} = \frac{v_0^2}{2} + a_0(s - s_0)}$$

## 2. Integrar $a(s)$

- Si tenemos una expresión para la **aceleración como función de la posición**  $a(s)$ , la velocidad  $v(s)$  se obtiene de

$$a ds = v dv, \quad \longrightarrow \quad \frac{v^2}{2} = \frac{v_0^2}{2} + \int_{s_0}^s a(s') ds' \quad \longrightarrow \quad v(s)$$

- En otros casos,  $s(t)$  se obtiene de

$$v = \frac{ds}{dt} \quad \longrightarrow \quad t = \int_{s_0}^s \frac{ds'}{v(s')} \quad \longrightarrow \quad s(t)$$

- Finalmente  $v(t)$  y  $a(t)$  se obtienen de

$$v(t) = \frac{ds}{dt} \quad a(t) = \frac{dv}{dt}$$

### 3. Integrar $a(v)$

- Si tenemos una expresión para la **aceleración como función de la velocidad**  $a(v)$ , la velocidad  $v(t)$  y  $a(t)$  se obtienen de

$$a = \frac{dv}{dt} \quad \longrightarrow \quad t = \int_{v_0}^v \frac{dv'}{a(v')} \quad \longrightarrow \quad v(t) \quad \longrightarrow \quad a(t) = \frac{dv}{dt}$$

- Mientras que la posición  $s(t)$  se puede obtener de

$$a ds = v dv \quad \longrightarrow$$
$$s - s_0 = \int_{v_0}^v \frac{v'}{a(v')} dv' \quad \longrightarrow \quad s(v) \quad \longrightarrow \quad s(t)$$

## Ejemplo 2

La **aceleración** de una partícula está dada por

$$a = k\sqrt{s},$$

donde  $k$  es una constante positiva y  $s$  es la distancia a un punto de referencia. La **velocidad** y **posición** son **nulos para  $t=0$** . Determine la **aceleración, velocidad, y posición** para un **tiempo cualquiera**.

## Ejemplo 2

La **aceleración** de una partícula está dada por

$$a = k\sqrt{s},$$

donde  $k$  es una constante positiva y  $s$  es la distancia a un punto de referencia. La **velocidad** y **posición** son **nulos para  $t=0$** . Determine la **aceleración, velocidad, y posición** para un **tiempo cualquiera**.

$$v \, dv = a \, ds \quad \longrightarrow \quad v \, dv = k\sqrt{s} \, ds$$

$$\longrightarrow \quad \frac{v^2}{2} = \frac{2k}{3} s^{3/2} \quad \longrightarrow \quad v = 2\sqrt{\frac{k}{3}} s^{3/4}$$

$$v = \frac{ds}{dt} \quad \longrightarrow \quad t = \int_0^s \frac{ds}{v(s)} = \int_0^s \frac{ds}{2\sqrt{k/3} s^{3/4}}$$

$$\longrightarrow \quad \boxed{s = \frac{k^2}{144} t^4} \quad \longrightarrow \quad \boxed{v = \frac{ds}{dt} = \frac{k^2}{36} t^3}$$

$$\longrightarrow \quad \boxed{a = \frac{dv}{dt} = \frac{k^2}{12} t^2}$$

## Ejemplo 2

La **aceleración** de una partícula está dada por

$$a = k\sqrt{s},$$

donde  $k$  es una constante positiva y  $s$  es la distancia a un punto de referencia. La **velocidad** y **posición** son **nulos para  $t=0$** . Determine la **aceleración, velocidad, y posición** para un **tiempo cualquiera**.

$$v dv = a ds \quad \longrightarrow \quad v dv = k\sqrt{s} ds$$

$$\longrightarrow \quad \frac{v^2}{2} = \frac{2k}{3}s^{3/2} \quad \longrightarrow \quad v = 2\sqrt{\frac{k}{3}}s^{3/4}$$

$$v = \frac{ds}{dt} \quad \longrightarrow \quad t = \int_0^s \frac{ds}{v(s)} = \int_0^s \frac{ds}{2\sqrt{k/3}s^{3/4}}$$

$$\longrightarrow \quad \boxed{s = \frac{k^2}{144}t^4} \quad \longrightarrow \quad \boxed{v = \frac{ds}{dt} = \frac{k^2}{36}t^3}$$

¿Cuales son las dimensiones de  $k$ ?

$$\longrightarrow \quad \boxed{a = \frac{dv}{dt} = \frac{k^2}{12}t^2}$$



# Resumen

- Estudiamos el caso particular de movimiento con **aceleración constante**.
- Hemos revisado en detalle la **integración** en problemas de movimiento rectilíneo.
- Próxima clase:
  - Cinemática 2D.